

ДЪРЖАВЕН ЗРЕЛОСТЕН ИЗПИТ ПО

ГЕОГРАФИЯ И ИКОНОМИКА

31 август 2012 г. – Вариант 2

*Отговорите на задачите от 1. до 30. вкл. отбелязвайте в листа за отговори!*

**1. Седиментните скали се образуват при:**

- А) изстиване на магма в земната кора
- Б) потъване в дълбочина и под влияние на висока температура и налягане
- В) отлагане на скални частици и органични останки във водните басейни
- Г) изстиване на магма на повърхността на земната кора

**2. Посочете вярната географска закономерност:**

- А) озоновият слой е разположен в стратосферата
- Б) барханите са резултат от абразионната дейност
- В) климатичните пояси са азонално проявени
- Г) циркусите имат карстов произход

**3. Коя от характеристиките за водите на Световния океан се измерва в промили и има средна стойност 35‰?**

- А) температурата в дълбочина
- Б) солеността
- В) съдържанието на кислород
- Г) прозрачността

**4. Ждрелата и проломите са форми на релефа, характерни за:**

- А) равнините
- Б) планините
- В) котловинните дъна
- Г) низините

**5. Демографският проблем в развиващите се страни се изразява в:**

- А) намаляване на раждаемостта
- Б) увеличаване на броя на населението
- В) засилване на имиграциите
- Г) отрицателен естествен прираст

**6. В коя от посочените двойки „държава – форма на управление” има несъответствие?**

- А) Чехия – монархия
- Б) Румъния – република
- В) Дания – монархия
- Г) Унгария – република

**7. Коя от посочените държави се характеризира с висока степен на урбанизираност?**

- А) Индия
- Б) Япония
- В) Египет
- Г) Бангладеш

**8. Коя група от градове представлява т.нар. „финансова ос” на света?**

- А) Париж – Женева – Стокхолм
- Б) Нью Йорк – Лондон – Токио
- В) Рим – Берн – Пекин
- Г) Москва – Шанхай – Сан Франциско

**9. В кой географски регион в света НЕ се развива пазарно стопанство до 1989 година?**

- А) Северноамерикански
- Б) Източноевропейски
- В) Западноевропейски
- Г) Австралийски

**10. В коя от посочените двойки „държава – специализиращ отрасъл” има несъответствие?**

- А) Канада – копринено-текстилна промишленост
- Б) Китай – порцеланово-фаянсовата промишленост
- В) Аржентина – кожаро-кожухарска промишленост
- Г) Норвегия – рибноконсервната промишленост

**11. Кое от посочените природни бедствия НЕ е предизвикано само от метеорологични климатични процеси?**

- А) засушаване
- Б) ураган
- В) цунами
- Г) градушка

**12. Коя крайна точка на България е с географски координати  $41^{\circ} 14'$  с.ш. и  $25^{\circ} 17'$  и.д.?**

- А) връх Вейката
- Б) нос Шабла
- В) връх Китка
- Г) устието на река Тимок

**13. С подписването на кой международен договор от територията на България е отнета Южна Добруджа?**

- А) Санстефански договор
- Б) Берлински договор
- В) Букурещки договор
- Г) Ньойски договор

**14. Кой ГКПП НЕ е разположен на границата между България с Македония?**

- А) Златоград
- Б) Златарево
- В) Логодаж (Станке Лисичково)
- Г) Гюешево

**15. Как се нарича рушителната дейност на временно и постоянно течащата вода?**

- А) ерозия
- Б) абразия
- В) екзарация
- Г) дефлация

**16. В коя двойка „ находище – полезно изкопаемо” има несъответствие?**

- А) Долни Дъбник – нефт
- Б) Лъки – оловно-цинкова руда
- В) Елаците – манганова руда
- Г) Ветово – каолин

**17. Коя е най-дългата българска река, която се влива директно в Черно море?**

- А) Велека
- Б) Ропотамо
- В) Камчия
- Г) Резовска

**18. Коя от посочените територии НЕ попада в обхвата на континентално-средиземноморската климатична област?**

- А) Санданско-Петричка котловина
- Б) Източни Родопи
- В) Западни Родопи
- Г) Гоцеделчевска котловина

**19. Кое от посочените твърдения за разпространението на почвите в България НЕ е вярно?**

- А) Кафявите горски почви са типични за планинските райони.
- Б) Черноземите са разпространени в Дунавската равнина.
- В) Жълтоземните почви са разпространени само в поречието на река Велека.
- Г) Сивите горски почви са характерни за Горнотракийската низина.

**20. В териториалния обхват на коя природногеографска област се включват Провадийското и Шуменското плато?**

- А) Дунавска равнина
- Б) Старопланинска
- В) Краищенско-Средногорска
- Г) Рило-Родопска

**21. В коя природногеографска област се намира точката с най-ниска надморска височина в България?**

- А) Горнотракийска низина
- Б) Черноморско крайбрежие
- В) Дунавска равнина
- Г) Задбалкански котловини

**22. Населението на коя от посочените територии в България се отличава с най-големи възпроизводствени възможности?**

- А) Северозападна България
- Б) Краище
- В) Сакар – Странджа
- Г) Североизточна България

**23. Кои основни функции обединяват селищата Банкя, Хисаря, Вършец и Сапарева баня?**

- А) транспортни
- Б) промишлени
- В) земеделски
- Г) балнеоложки

**24. Отглеждането на кайсии е типично за района на:**

- А) Сливен
- Б) Пловдив
- В) Силистра
- Г) Кюстендил

**25. Кой фактор е определящ за териториалното разположение на ТЕЦ „Марица Изток” I, II, III?**

- А) голямото потребление на електрическа енергия
- Б) добивът на лигнитни въглища
- В) големият брой трудови ресурси
- Г) наличието на големи водни ресурси

**26. Центрове на речно корабостроене в България са:**

- А) Русе и Тутракан
- Б) Видин и Лом
- В) Свищов и Оряхово
- Г) Силистра и Видин

**27. В коя двойка „град – промишлена специализация” има несъответствие?**

- А) Девня – соди
- Б) Пловдив – консерви
- В) Кюстендил – пиво
- Г) Бургас – нефтопродукти

**28. Коя автомагистрала е продължение на „Тракия” в посока за Република Турция?**

- А) „Хемус”
- Б) „Люлин”
- В) „Струма”
- Г) „Марица”

**29. В кой географски регион на България се намират Баташкият водносилов път, каскадите Белмекен-Сестримо и р. Вьча?**

- А) Югозападен
- Б) Североизточен Придунавски
- В) Западен Тракийско-Родопски
- Г) Северен Централен

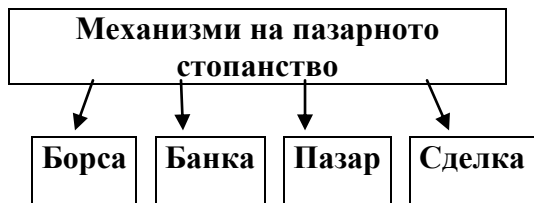
**30. Коя свободна икономическа зона НЕ е разположена по пътя на транспортен коридор № 10?**

- А) Драгоман
- Б) Свиленград
- В) Пловдив
- Г) Русе

Отговорите на задачи от 31. до 38. вкл. запишете в свитъка за свободните отговори!

31. На схемата са отбелязани основните механизми на пазарното стопанство. В свитъка за свободните отговори допишете пропуснатото в изречението:

„Цените на стоките и услугите се определят от производствените разходи и от ..... – в зависимост от търсенето и предлагането.“



32. В свитъка за свободните отговори напишете пропуснатите в схемата три вида неизчерпаеми природни ресурси!



33. В свитъка на свободните отговори напишете коя държава от Източноевропейския регион прави изключение от отрицателните за региона стойности на естествения прираст, отличава се с висока раждаемост и стабилен положителен естествен прираст.

34. В свитъка за свободните отговори напишете за коя планина в България са характерни растителните видове източен бук, лавровишня и зеленика.

35. В свитъка за свободните отговори срещу номера от 1 до 3 вкл. поставете града, който се отнася към посочените областни центрове.

Областни центрове	Град
1. Пернишка	
2. Кюстендилска	
3. Благоевградска	

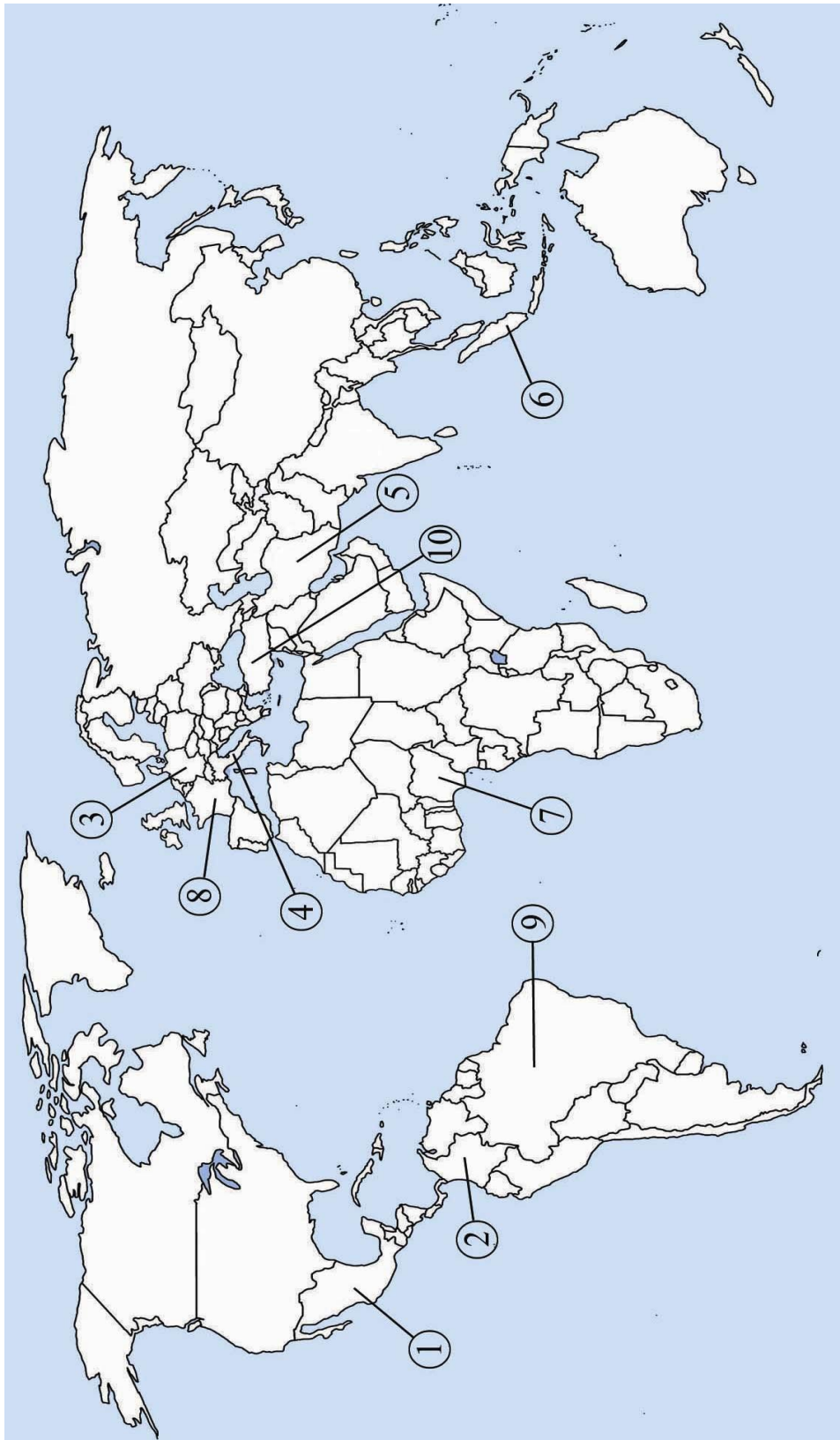
Градове: Гоце Делчев, Грън, Дупница

36. В свитъка за свободните отговори напишете кой социално-икономически регион на България се нарежда на първо място в страната по размера на обработваемата земя.

На практическите задачи 37. и 38. вкл. отговорете в свитъка за свободните отговори!

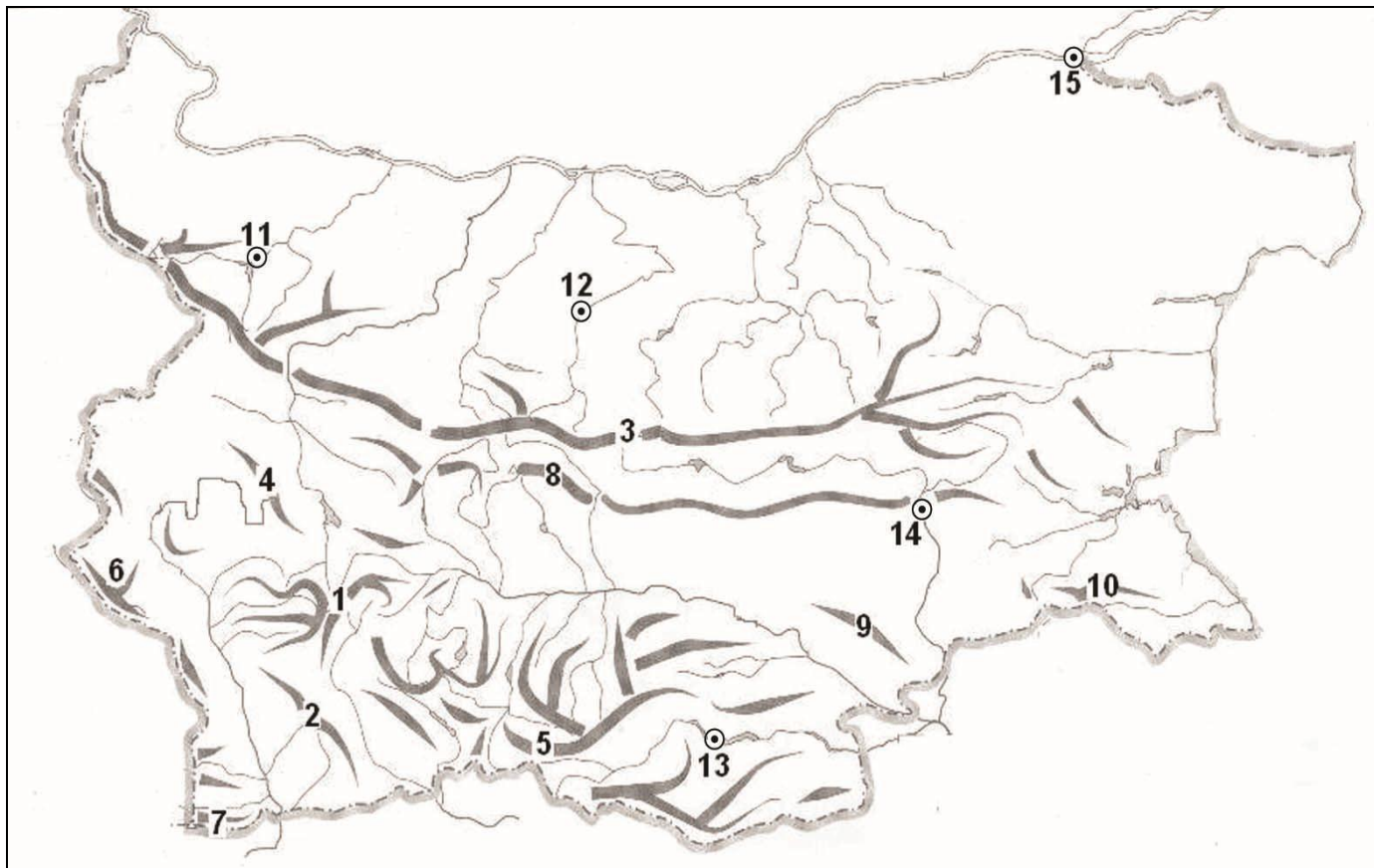
**37. Практическа задача по география на света**

**В свитъка за свободните отговори срещу номера от 1 до 10 запишете наименованията на отбелязаните държави.**



### 38. Практическа задача по география на България

В свитъка на свободните отговори срещу номера от 1 до 3 запишете наименованията на отбелязаните Национални паркове в България, срещу номера от 4 до 10 запишете наименованията на отбелязаните планини, а срещу номера от 11 до 15 запишете наименованията на отбелязаните на картосхемата областни градове.



Писмената разработка напишете в свитъка за свободните отговори на предвиденото за това място!

#### Географска характеристика на Задбалканските котловини

А) Географско положение, граници и морфохидрографски особености

Б) Природни условия и ресурси

- Релеф и полезни изкопаеми
- Климат и води
- Почви, растителност и животински свят

В) Стопанска усвоеност и геоекологични проблеми

**МИНИСТЕРСТВО НА ОБРАЗОВАНИЕТО, МЛАДЕЖТА И НАУКАТА**  
**ДЪРЖАВЕН ЗРЕЛОСТЕН ИЗПИТ ПО**  
**ГЕОГРАФИЯ И ИКОНОМИКА**

**31 септември 2012 г.**

**ВАРИАНТ № 2**

**Ключ с верните отговори**

<b>Въпрос №</b>	<b>Верен отговор</b>	<b>Брой точки</b>
<b>1.</b>	<b>В</b>	<b>1</b>
<b>2.</b>	<b>А</b>	<b>1</b>
<b>3.</b>	<b>Б</b>	<b>1</b>
<b>4.</b>	<b>Б</b>	<b>1</b>
<b>5.</b>	<b>Б</b>	<b>1</b>
<b>6.</b>	<b>А</b>	<b>1</b>
<b>7.</b>	<b>Б</b>	<b>1</b>
<b>8.</b>	<b>Б</b>	<b>1</b>
<b>9.</b>	<b>Б</b>	<b>1</b>
<b>10.</b>	<b>А</b>	<b>1</b>
<b>11.</b>	<b>В</b>	<b>1</b>
<b>12.</b>	<b>А</b>	<b>1</b>
<b>13.</b>	<b>В</b>	<b>1</b>
<b>14.</b>	<b>А</b>	<b>1</b>
<b>15.</b>	<b>А</b>	<b>1</b>
<b>16.</b>	<b>В</b>	<b>1</b>
<b>17.</b>	<b>В</b>	<b>1</b>
<b>18.</b>	<b>В</b>	<b>1</b>
<b>19.</b>	<b>Г</b>	<b>1</b>
<b>20.</b>	<b>А</b>	<b>1</b>
<b>21.</b>	<b>Б</b>	<b>1</b>
<b>22.</b>	<b>Г</b>	<b>1</b>
<b>23.</b>	<b>Г</b>	<b>1</b>
<b>24.</b>	<b>В</b>	<b>1</b>
<b>25.</b>	<b>Б</b>	<b>1</b>
<b>26.</b>	<b>А</b>	<b>1</b>
<b>27.</b>	<b>В</b>	<b>1</b>
<b>28.</b>	<b>Г</b>	<b>1</b>
<b>29.</b>	<b>В</b>	<b>1</b>
<b>30.</b>	<b>Г</b>	<b>1</b>



31. пазар – 1 точка
32. енергия на Слънцето; енергия на вятъра; енергия на приливите и отливите – 3 точки
33. Албания – 2 точки
34. Странджа – 3 точки
35. Пернишка – Трън; Кюстендилска – Дупница; Благоевградска – Гоце Делчев – 3 точки
36. Северен Централен регион – 3 точки

37. Практическа задача по *география на света* – 10 точки

1. Мексико
2. Колумбия
3. Германия
4. Италия
5. Иран
6. Индонезия
7. Нигерия
8. Франция
9. Бразилия
10. Турция

38. Практическа задача по *география на България* – 15 точки

1. Рила
2. Пирин
3. Централен Балкан
4. Витоша
5. Родопи
6. Осоговска планина
7. Беласица
8. Средна гора
9. Сакар
10. Странджа
11. Монтана
12. Ловеч
13. Кърджали
14. Ямбол
15. Силистра

**Писмена разработка върху география на България – 30 точки**

**Географска характеристика на Задбалканските котловини**

**А) Географско положение, граници и морфохидрографски особености – 8 точки**

**Б) Природни условия и ресурси – 17 точки**

- Релеф и полезни изкопаеми
- Климат и води
- Почви, растителност и животински свят

**В) Стопанска усвоеност и геоекологични проблеми – 5 точки**